

一般能力考査

\* これは実際の試験問題ではありません。  
(This is NOT the actual test.)

No.000001

受験番号				
------	--	--	--	--

一 般 能 力 考 査

問題

指示

係りの指示があるまでは絶対に中を開けないこと

0. リラックスしていきましょう。
1. この考査に含まれる問題の数は全部で 100 問です。
2. 解答のための時間は「はじめ」の合図があつてから、全部で正味 70 分です。
3. 大部分の問題はよく似た形式ですが、かなり変わった問題もあります。番号の順序にこだわらずに、時間の配分を考えて、できるものから答えてください。
4. 答えかたの指示をよく読み、十分に理解してから、はじめてください。答えの記入のしかたが指示どおりでないと、正解でも無効になります。
5. 答えはすべて、解答用カードの定められたわくのなかに鉛筆を用いて書きいれてください。それ以外のところに書いたり、また、答え以外のものを書き込んだりすると無効になります。
6. 解答用カードには表裏あわせて 100 の解答欄があります。
7. 一度書いた答えを訂正するには、消しゴムできれいに消してから、あらためて正しい答えをさだめたとおりに、はっきり書いてください。
8. 計算やメモにはこの問題用紙の余白を用い、ほかの紙はいっさい用いないでください。
9. 「考査やめ」の合図があつたら、ただちにやめてください。係が問題用紙と解答用カードとをあつめ終わるまでは、退場できません。
10. この指示について質問があるときは係りにきいてください。ただし問題の内容に関する質問はいっさいうけません。

「受験番号」を解答用カードの定められたところに忘れずに書き入れること

1. 人間は考える葦である：パスカル：人間は万物の尺度である：  $\left\{ \begin{array}{l} \text{a. トマス・モア} \\ \text{b. シーザー} \\ \text{c. セルバンテス} \\ \text{d. プロタゴラス} \end{array} \right.$

2. スイス：チェコ：ルクセンブルク：中央アフリカ共和国：アフガニスタン：モンゴル：  
 $\left\{ \begin{array}{l} \text{a. ポーランド} \\ \text{b. ドイツ} \\ \text{c. フィンランド} \\ \text{d. ハンガリー} \end{array} \right.$

3. ICUの某教室においてI教授の授業が行われた。教室には長いすが配置されており、最初は1つの長いすが9人が腰掛け、4つの長いすが余っていた。ところが、I教授が「避難訓練マニア」であったために、授業中に突然全員が教室の外に出るという訓練を行わされた。訓練を終え、教室に戻ったところ、今度は1つの長いすが8人が腰掛け、2人の席が足りなくなってしまった。この教室には何人の生徒がいたか。ただし、避難訓練中に授業から逃亡した生徒はいないものとする。

- $\left\{ \begin{array}{l} \text{a. 123人} \\ \text{b. 159人} \\ \text{c. 263人} \\ \text{d. 270人} \end{array} \right.$

4. 5, 7, 10, 14, 19,  $\left\{ \begin{array}{l} \text{a. 25} \\ \text{b. 27} \\ \text{c. 30} \\ \text{d. 31} \end{array} \right\} \dots$

5. れそ：なら：ぬの：：ぬる：かよ： $\left\{ \begin{array}{l} \text{a. そつ} \\ \text{b. こえ} \\ \text{c. ほへ} \\ \text{d. れそ} \end{array} \right.$

6. リンゴ : 赤 : : レモン : {
- a. 柑橘
  - b. 果実
  - c. 楕円
  - d. 酸味

7.

3	6	2
	1	

5	3	3
	5	

6	2	1
	3	

4	X	2
	2	

- {
- a. 2
  - b. 4
  - c. 8
  - d. 10

8. 東方見聞録 : マルコ・ポーロ : : 失樂園 : {
- a. ダンテ
  - b. ボッカチオ
  - c. ミルトン
  - d. セルバンテス

9. 暖簾に腕押し : 豆腐にかすがい : : 化けの皮がはがれる :

- {
- a. 能ある鷹は爪かくす
  - b. 馬脚をあらわす
  - c. ひょうたんから駒が出る
  - d. 悪事千里を走る

10. DF : IK : OQ : : LN : QS : {
- a. VX
  - b. WY
  - c. SW
  - d. YZ

11. 「芸術を愛する人は感受性の豊かな人である。」という命題が正しいとき、確実に言えるものはどれか。

- (イ) 芸術を愛する人と感受性の豊かな人は一致する。
- (ロ) 感受性が豊かでない人は芸術を愛さない人である。
- (ハ) 感受性の豊かな人は芸術を愛する。

- a. (イ) (ロ)
- b. (ロ) (ハ)
- c. (ロ) のみ
- d. (イ) のみ

12. 七転 : 八 : : 四分 : :  $\left\{ \begin{array}{l} \text{a. 三} \\ \text{b. 四} \\ \text{c. 五} \\ \text{d. 六} \end{array} \right.$

13. 縦 12cm、横 9cm の四角形がある。この四角形を並べて正方形を作るには最低何個必要か。

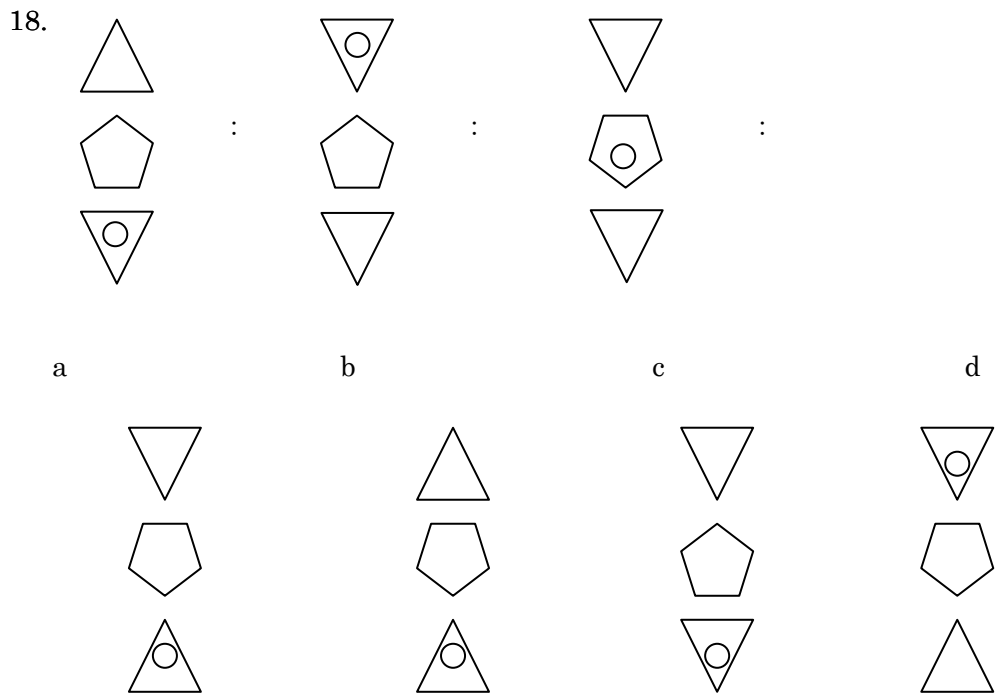
- a. 8
- b. 12
- c. 16
- d. 20

14. 安土城 : 織田信長 : : 江戸城 :  $\left\{ \begin{array}{l} \text{a. 豊臣秀吉} \\ \text{b. 徳川家光} \\ \text{c. 太田道灌} \\ \text{d. 徳川家康} \end{array} \right.$

15. 5種 : ペンタスロン : : 7種 : ヘプタスロン : : 10種  $\left\{ \begin{array}{l} \text{a. プタスロン} \\ \text{b. メガスロン} \\ \text{c. フレスロン} \\ \text{d. デカスロン} \end{array} \right.$

16. 鼎立 : 三者の対立 :: 論客 :
- a. 議論好きな人
  - b. 評論家
  - c. 演説者
  - d. 賛同する人

17. 3, 8, 18, 48,
- a. 108
  - b. 128
  - c. 148
  - d. 168



19. トランペット : トロンボーン : ホルン :: クラリネット : サキソフォン
- a. フルート
  - b. コルネット
  - c. チューバ
  - d. ビブラフォン

20. 6等星 : 1等星 : : 1 :  $\left\{ \begin{array}{l} \text{a. } 25 \\ \text{b. } 50 \\ \text{c. } 75 \\ \text{d. } 100 \end{array} \right.$

21. イチローはまっすぐランニングした後、 $45^\circ$  左に曲がり、しばらくして  $90^\circ$  右に曲がったところ、真後ろから東風を受けた。イチローが最初に進んでいた方角はどちらか。

- $\left\{ \begin{array}{l} \text{a. 南東} \\ \text{b. 南西} \\ \text{c. 北東} \\ \text{d. 北西} \end{array} \right.$

22. 全仏 : 全米 : 全英 :  $\left\{ \begin{array}{l} \text{a. 全豪} \\ \text{b. 全米オープン} \\ \text{c. ウィンブルドン} \\ \text{d. マスターズ} \end{array} \right.$

23. 「外国人は社交的である」「日本人は禁欲的である」「欧米人は体格がよい」という命題が正しいとき、確実に言えるものはどれか。

- (イ) 体格がよくない人は欧米人ではない。  
 (ロ) 外国人でなければ勤勉である。  
 (ハ) 禁欲的でない人は日本人でない。

- $\left\{ \begin{array}{l} \text{a. (イ) (ロ)} \\ \text{b. (ロ) (ハ)} \\ \text{c. (イ) (ハ)} \\ \text{d. 上記のいずれでもない。} \end{array} \right.$

24. シロア : スクモア : : ナベムト :  $\left\{ \begin{array}{l} \text{a. マリ} \\ \text{b. ニラマ} \\ \text{c. チーホミン} \\ \text{d. ノイハ} \end{array} \right.$

25. 絶体絶命 : : 快刀乱 :
- a. 真
  - b. 馬
  - c. 間
  - d. 麻

26. 私が4人兄弟の次男で、末っ子の弟と、両親と同居している時、あり得ないことはどれか。

- a. 私には23歳年上の叔母と、10歳年下の妹がいる。
- b. 私と弟との年齢差は10歳である。
- c. 私と兄とは5歳の年齢差で、別居している。
- d. 私と弟とは3歳、妹とは4歳の年齢差がある。

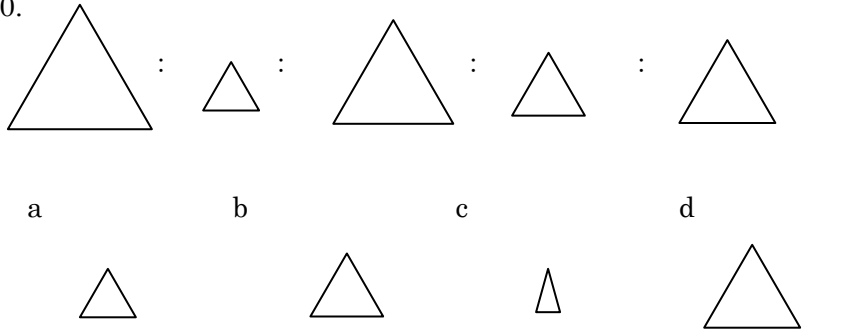
27. 2つのサイコロの投げたときに出る目の合計は全部で何通りあるか。なお「1・3」と「2・2」など、出た目が違っても同じ合計になるものは1通りとして扱う。

- a. 9通り
- b. 11通り
- c. 12通り
- d. 24通り

28. 坪内逍遙 : 二葉亭四迷 : 尾崎紅葉 :
- a. 幸田露伴
  - b. 正岡子規
  - c. 島崎藤村
  - d. 永井荷風

29. 日本 : 内閣総理大臣 : : アメリカ : 大統領 : : 中国 :
- a. 第一書記長
  - b. 国家主席
  - c. 共産党首
  - d. 人民代表

30.



31. ダンテ : ペトラルカ : ボッカチオ : : チョーサー : トマス=モア :

- a. ラブレール
- b. セルバンテス
- c. エラスムス
- d. シェークスピア

32. 2, 5, 9, 15, 24,  $\left\{ \begin{array}{l} \text{a. } 31 \\ \text{b. } 33 \\ \text{c. } 35 \\ \text{d. } 37 \end{array} \right.$

33. 角逐 : 互いに競うこと : : 傀儡 :  $\left\{ \begin{array}{l} \text{a. あやつり人形} \\ \text{b. 恥らい} \\ \text{c. 仮の姿} \\ \text{d. 不平・不満} \end{array} \right.$

34. 自動車免許 : 18 : : 飲酒 : 20 : : 衆議院議員 :  $\left\{ \begin{array}{l} \text{a. } 20 \\ \text{b. } 23 \\ \text{c. } 25 \\ \text{d. } 30 \end{array} \right.$

35. 喜寿 : 77 : : 米寿 :  $\left\{ \begin{array}{l} \text{a. } 55 \\ \text{b. } 66 \\ \text{c. } 88 \\ \text{d. } 99 \end{array} \right.$



36. 導線の両端にかかる電圧は電流に比例：オーム：：

浮力の大きさはその物体が押しのかけた液体の重さに等しい：

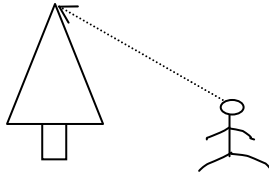
- a. アルキメデス
- b. フレミング
- c. アボガドロ
- d. ドップラー

37. 税金を納める：胸に納める：：手を結ぶ：

- a. 手が足りない
- b. 手を切る
- c. 手が込んでいる
- d. 手のひらで踊る

38. 下図のように、A が 45 度の角度で木の頂点を見上げたところちょうど木から 7m の位置に立っていた。A の視点の高さが 1m50cm であるとする、木の高さは何 m か。

- a. 5.5m
- b. 6.8m
- c. 7.5m
- d. 8.5m



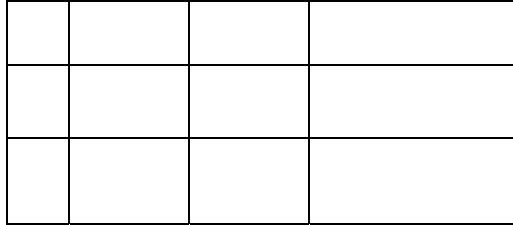
39. 肯定：否定：：玄人：

- a. 新人
- b. 仙人
- c. 名人
- d. 素人

40. WHO : World Health Organization : : ILO

- a. International Labour Organization
- b. International Lines for Oil
- c. Institute of Liberal Organization
- d. International Lightning Organization

41. 以下の図形のマスに2色を使ってカラーリングしたい。2色がそれぞれと隣り合わないようにぬる方法は全部で何通りあるか。



- a. 2通り
- b. 4通り
- c. 8通り
- d. 12通り

42. (1)宋(2)隋(3)明(4)元(5)唐

- a. (2)(5)(1)(4)(3)
- b. (4)(5)(2)(1)(3)
- c. (5)(3)(1)(4)(2)
- d. (5)(2)(3)(1)(4)

43. Aは最後がP850である本を読んでいる。P15から読み始め、3章と5章を飛ばしてのページを読み切った。3章、5章がそれぞれ100ページずつある時、Aが読んだページ数は全部で何ページか。

- a. 630ページ
- b. 635ページ
- c. 636ページ
- d. 640ページ

44. コンセンサス : 同意 : : アセスメント :

- a. 一致
- b. 共同
- c. 査定
- d. 宣言

45. A,B,C の 3 人が同級生の X,Y について話しをしている。

A 「X はサッカー選手だ」

B 「Y は野球選手だ」

C 「X,Y の少なくとも一方はスポーツ選手だ」

A,B,C の話は必ずしも正しいとは限らないが、確実に言えるものはどれか。

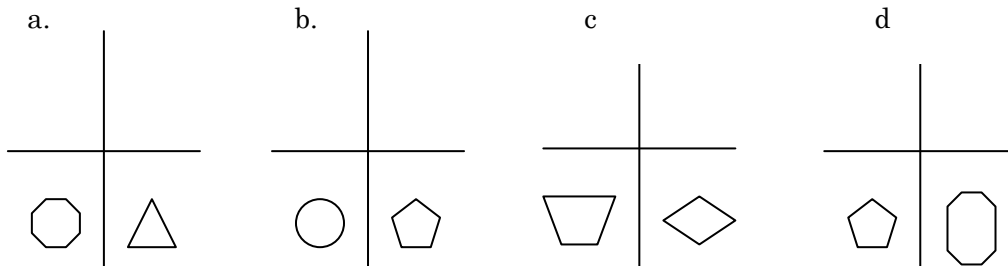
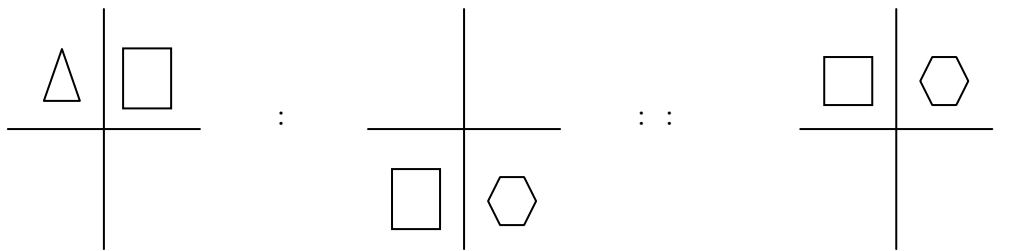
- (イ) A が正しいければ B も正しい。
- (ロ) A が正しいければ、C も正しい。
- (ハ) B が正しいければ、C も正しい。

- a. (イ) (ロ)
- b. (ロ) (ハ)
- c. (イ) (ハ)
- d. 上記のいずれでもない。

46. 自由権：人間の尊厳：思想・信仰の自由：生命の安全：：社会権：労働権：団結権：

- a. 集会・結社の自由
- b. 参政権
- c. 法の下での平等
- d. 教育権

47.



48. 祇園精舎の鐘の声、諸行無常の響きあり。：平家物語：  
 ゆく川の流れば絶えずして、しかももとの水にあらず。：

- a. 徒然草
- b. 土佐日記
- c. 方丈記
- d. 奥の細道

49. 「肌がきれいな人は健康である。」  
 「野菜が好きな人は農家である。」  
 「野菜が好きな人は肌がきれいである。」  
 という命題がいずれも成り立つ時、確実にいえるものはどれか。

- a. 農家は健康である。
- b. 野菜が好きな人は健康である。
- c. 肌がきれいでも健康でない人もいる。
- d. 農家は肌がきれいである。

50. 口：唾液：プチアリン：：胃：胃液： {

- a. リパーゼ
- b. マルターゼ
- c. ラクターゼ
- d. ペプシン

51. 中庸：孟子：論語： {

- a. 大学
- b. 春秋
- c. 礼記
- d. 詩経

52. 通常国会：特別国会：臨時国会： {

- a. 延期国会
- b. 立法国会
- c. 緊急国会
- d. 爆笑国会

53. He : Li : B : O : Mg
- a. S
  - b. Cl
  - c. Ar
  - d. Ca

54. A,B,C,D,E の 5 人が徒競走をした。A は C より遅く、E は B より速く、A は B より遅く、D が C よりも速いとき、確実に言えるものはどれか。

- a. E が一番速い。
- b. D は A より速い。
- c. E は C より遅い。
- d. B は D より遅い。

55. たまのむば : ろく : : らちねたの :
- a. ちち
  - b. はは
  - c. まつ
  - d. さか

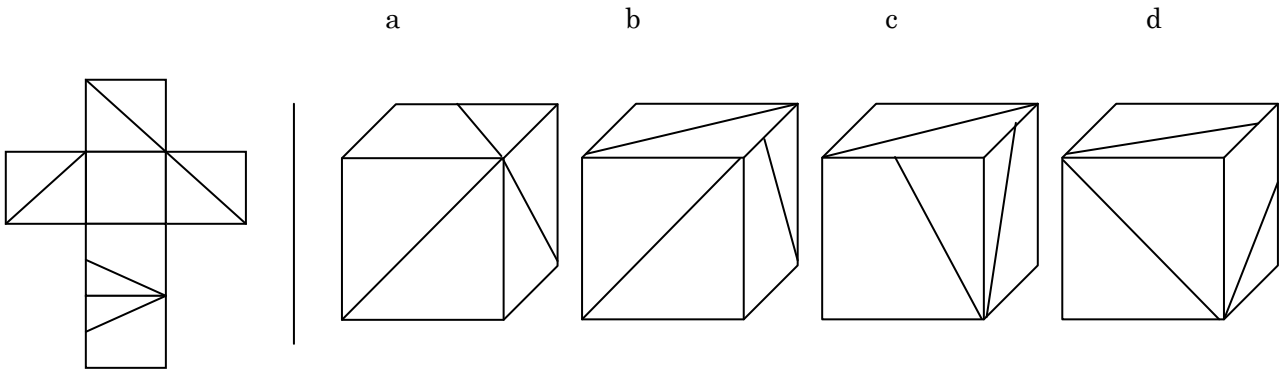
56. 総選挙 : general election : : 不動産 :
- a. estimated found
  - b. unmovable found
  - c. chain conference
  - d. real estate

57. 真言宗 : 空海 : : 浄土宗 : :
- a. 道元
  - b. 親鸞
  - c. 法然
  - d. 栄西

58. ある年の 3 月 23 日は日曜日である。125 日後は何曜日か。

- a. 月曜日
- b. 木曜日
- c. 土曜日
- d. 日曜日

59.



60. うらたごの : たかねふじのに : : いろはなはの : { a. ふわよがみるに  
 b. しころづこなく  
 c. はしむかものを  
 d. たびのまいひと

61. ビタミン A : 夜盲症 : : ビタミン C : { a. 脚気  
 b. 貧血症  
 c. 壊血病  
 d. 発育障害

<注 : この問題はサンプルです。実際の問題は問 100 まで続きます>